

نموذج امتحان الجغرافيا (المستوى الرفيع) للثانوية العامة

اولا : اجب عن الاسئلة الاتية :-

السؤال الاول :

(أ) ضع علامة صح او خطأ أمام العبارات الآتية مع ذكر السبب :-

1. يتأثر تخطيط الحدود السياسية بأنواعها المختلفة بالقوة وسياسة الأمر الواقع
2. يواجه التعليم في مصر مشكلات عديدة جعلته قضية امن قومي
3. تبلغ نسبة سكان الحضر في مصر 94.8% من جملة سكانها
4. تكثر المشكلات العرقية والدينية في مدينة كلكتا
5. يعيش معظم سكان مدينة لندن في الحلقة الخارجية للمدينة
6. تأخرت الدول العربية في محاولاتها لتحقيق مجتمع المعرفة

(ب) هل توافق على الآتى ؟ ولماذا ؟

1. إنشاء عاصمة جديدة لمصر بدلا من القاهرة
2. إنشاء الطريق الدائرى حول القاهرة
3. الاهتمام بصادرات مصر اكثر من الواردات

(ج) كيف يمكن تقييم جدارة النظم السياسية والإدارية ؟

السؤال الثانى :

(أ) (البطالة من اخطر المشاكل التى تواجه المجتمع المصرى)

في ضوء ذلك وضح :

1. الفرق بين البطالة والبطالة المقنعة
2. جهود الدول لحل مشكلة البطالة
3. ما مقترحاتك لمواجهة مشكلة البطالة

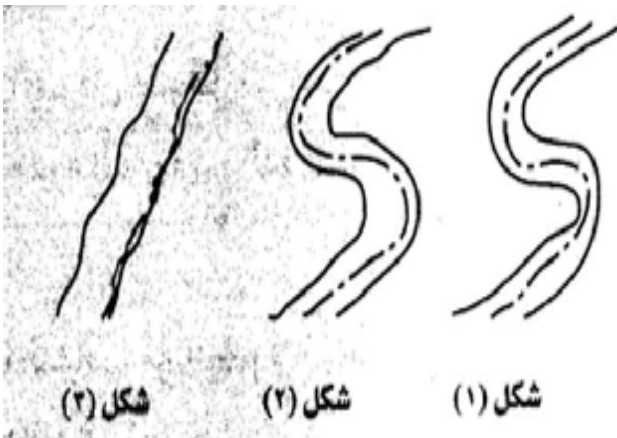
(ب) ما النتائج المترتبة على :

1. مد ايسلندا حدودها البحرية حتى 50 ميل بحرى
2. وقوع مدينة مكسيكوستى في منطقة حوضية
3. طول ساعات الذروة وصعوبة المرور في بعض المدن الكبرى

(ج) امامك رسم تخطيطى يوضح الحدود السياسية

النهرية - انقله في كراسة الاجابة

ثم وضح :-



1. اى الاشكال يمثل افضل شكل للحد السياسى النهري ؟ مع ضرب مثال من القارة الاوروبية
2. اى الاشكال يمثل مصدرا للنزاع والحروب بين الدولتين المتجاورتين ؟ مع ضرب مثال من الوطن العربى

السؤال الثالث :

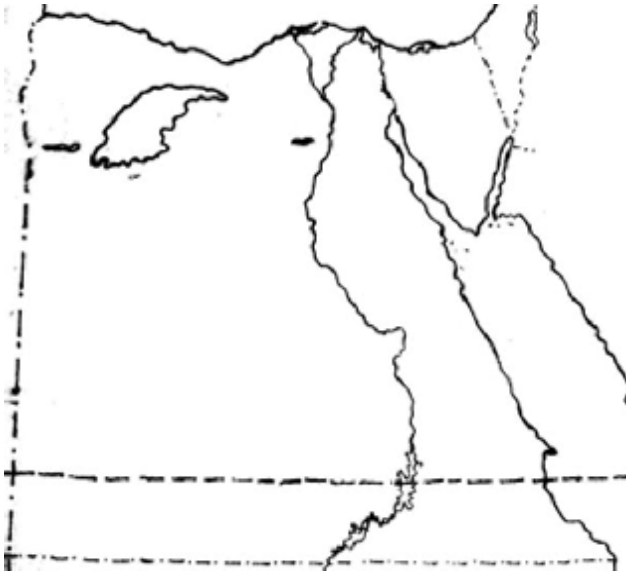
- (أ) استبدل كل من العبارات الاتية بمفهوم او مصطلح جغرافى مناسب : -
1. اختلاط دخان المصانع بالضباب وكسائه المباني باللون الاسود
 2. الهجرة من الريف الى المدن دون تغيير العادات والتقاليد ووسائل الحياة الريفية
 3. زيادة السكان نتيجة للفرق بين المواليد والوفيات
 4. حدود توجد على الخرائط ولا وجود لها على الطبيعة
 5. مسألة تستدعى التفكير لوضع حلول لها
 6. رفع القدرة التنافسية لانتاجها بواسطة برامج تخفيض الاثمان ورفع جودة ما تصدره
- (ب) " تمثل السياحة الآن نشاط اقتصادى هام وتعمل مصر جاهدة على الاستفادة من إمكاناتها في هذا المجال " في ضوء هذه العبارة وضح :
1. مقومات السياحة في مصر
 2. اعرض المقترحات التى تراها مناسبة لتنمية السياحة في مصر ؟

السؤال الرابع :

- (أ) (القاهرة من اقدم واكبر عواصم العالم ، ولكنها تواجه العديد من المشكلات)
في ضوء هذه العبارة اذكر :

1. ما المقصود بالقاهرة الكبرى ؟ وما خطورة توسعها جهة الشمال ؟
2. كيف تتخلص القاهرة من النفايات ؟
- وما رأيك في هذا الاسلوب ؟ - ولماذا ؟
3. ما اثار الهجرة الداخلية الى القاهرة ؟

- (ب) انقل خريطة مصر التى أمامك ووضح عليها تيارات الهجرة الداخلية الرئيسية في مصر



اجابة النموذج

اجابة السؤال الاول :-

(أ) 1 - العبارة صحيحة : لأن الدول المنتصرة قد تملى رغبتها في تغيير الحدود السياسية بعكس الدول المهزومة التي تفقد بعض أراضيها على اثر هزيمتها في الحرب كما حدث لألمانيا بعد هزيمتها في الحربين العالميتين الأولى والثانية وكذلك تركيا التي فقدت جزء كبير من املكها في اوربا بعد هزيمتها في الحرب العالمية الأولى

2 - العبارة صحيحة : فالتعليم يواجه العديد من المشكلات التي تحاول الدولة التغلب عليها ولذلك جعلته الدولة قضية امن قومي واهم هذه المشكلات :-

- ارتفاع نسبة الأمية وبخاصة في الريف
- تسرب التلاميذ في المرحلة الابتدائية
- قلة عدد المدارس بالنسبة للزيادة السكانية وتكدس الفصول
- النقص في التجهيزات المدرسية والمكتبات والمعامل والملاعب

3 - العبارة خطأ ، لأن نسبة سكان الحضر في مصر يبلغ نحو 44.8% من جملة السكان

4 - العبارة صحيحة ، خاصة بين المسلمين والهندوس او بين هؤلاء وبين السيخ وهو سكان المدينة

5 - العبارة خطأ ، لأن معظم سكان لندن يسكنون في الحلقة الوسطى ، حيث تركز المصانع وغيرها ، بينما كثافة السكان منخفضة في الحلقة الوسطى ، حيث تركز المصانع وغيرها ، بينما كثافة السكان منخفضة في الحلقة الخارجية حيث ان المساكن عبارة عن فيلات او مساكن صغيرة تحيط بها الحدائق

6 - العبارة صحيحة ، لأن خطتها لتحقيق مجتمع المعرفة لم تعلن في شكل وثيقة اجمع عليها مجلس الوزراء العرب للاتصالات والمعلومات الا عام 2003م

(ب) 1 - اوافق لأن العاصمة الجديدة سينتج عنها :-

- تقليل الهجرة بنسبة كبيرة الى القاهرة ، وبالتالي التخفيف من مشكلاتها
- نقل الاجهزة الحكومية من وزارات وغيرها من القاهرة الى العاصمة الجديدة وكذلك السفارات الاجنبية وهذا سوف يؤدي الى انتقال اعداد كبيرة من ساكنى القاهرة المرتبطين بالعمل فيها الى العاصمة الجديدة

• سوف يتم تعميم مناطق جديدة في مصر اذا اقيمت العاصمة الجديدة خارج الوادى والدلتا

2 - اوافق لان هذا الطريق الدائرى خفف من ازدحام السيارات والاختناق داخل القاهرة مما قلل من فترات الذروة وقلل الفاقد من الوقت حيث يستطيع المتجه من شمال القاهرة الى جنوبها استخدام الطريق الدائرى بدلا من دخول وسط القاهرة كما كان يحدث من قبل ولذلك فهذا مشروع عظيم

3 - أوافق لان هذا سيؤدي الى رفع القدرة التنافسية في الاسواق العالمية مما سيؤدي بدوره الى تعديل الميزان التجاري

(ج) يمكن تقييم جدارة النظم السياسية والادارية من خلال :

- 1- درجة استقلالية السلطات الاساسية
- 2 - مدى تطبيق الديمقراطية
- 3 - درجة نجاح الوزارات في تنفيذ برامجها
- 4 - مدى توفيق النظام الادارى في خدمة مصالح المجتمع
- 5 - مدى علاج المشكلات التى يواجهها المجتمع والناس

اجابة السؤال الثانى :

(أ) 1- البطالة : وجود نسبة مؤثرة من شباب ورجال المجتمع خارج قوة العمل

البطالة المقنعة : تتمثل فيمن تراهم يبيعون سلعا باثرة او يتسولون قوت يومهم او يبددون شبابهم

في صنائع غير منتجة

2 - جهود الدولة لحل مشكلة البطالة :

• تقوم الدولة بعمل مشاريع كبرى في الزراعة والصناعة تستوعب اعداد كبيرة من الايدى العاملة

• تقوم الدولة بعمل برامج لتعمير الصحراء في سيناء وتوشكى

3 - تترك حرية الإجابة للطالب

(ب) 1 - ترتب على مد ايسلندا حدودها البحرية حتى 50 ميل بحرى النزاع بينها وبين بريطانيا - قيام الاسطول الحربى البريطانى بحراسة سفن الصيد البريطانية التى تعمل في المناطق التى أعلنتها ايسلندا تابعة لها - حدوث صدام مسلح اكثر من مرة بين الزوارق الحربية الايسلندية والسفن الحربية البريطانية - وقد تمكنت ايسلندا من تنفيذ قرارها

2 - ركود الهواء فوق مكسيكوستى وانخفاض نسبة الاكسجين بها بنسبة 30% عما يوجد عند مستوى سطح البحر - ارتفاع نسبة اول اكسيد الكربون الناتج عن عادم السيارات - جو المدينة غير صحى لذلك اختفت كثير من الطيور منها

3 - طول ساعات الذروة وصعوبة المرور في بعض المدن الكبرى يؤدى الى ضياع الوقت والجهد البشرى ، وكذلك ارتفاع نسبة تلوث الهواء - التلوث السمعى لاطلاق الات التنبيه بصفة مستمرة - تعطيل سيارات الخدمات العامة كالمطافىء والاسعاف

(ج) 1 - افضل شكل للحد السياسى النهرى هو شكل (2) ويتمشى مع اكثر اجزاء المجرى عمقا ويمثله نهر الراين في غرب اوربا

2 - الشكل (3) يمثل مصدرا للنزاع والحروب بين الدولتين المتجاورتين حيث يكون المجرى بكامله تابعا لاحدى الدول واحدى ضفتيه فقط تابعا للدولة الاخرى مثال مجرى شط العرب

اجابة السؤال الثالث : -

- (أ) 1 - الضبخان 2 - التحضر الزائف 3 - الزيادة السكانية الطبيعية
4 - الحدود الافتراضية 5 - مشكلة 6 - الاثمان والاتقان

(ب) 1 - مقومات السياحة في مصر " عوامل الجذب السياحي في مصر "

- الدفاء والرمال والسماء الصافية والمياه النقية
- ميراث مصر التاريخي الممتد من التاريخ الفرعوني الى القبطى الى الاسلامى والاثار العسكرية الحديثة ومعالم الصناعة الحديثة ايضا

2- المقترحات لتنمية السياحة في مصر :

- انشاء القرى السياحية في سيناء وعلى طول سواحل البحر الاحمر والمتوسط
- تنمية منطقة شرم الشيخ كمنطقة عالمية
- حسن معاملة الضيوف ومنع استغلالهم
- حماية المقاصد الاثرية والتوسع في انشاء المتاحف

اجابة السؤال الرابع : -

(أ) 1 - تضم القاهرة الكبرى : مدينة القاهرة ومدينة الجيزة ومدينة شبرا الخيمة

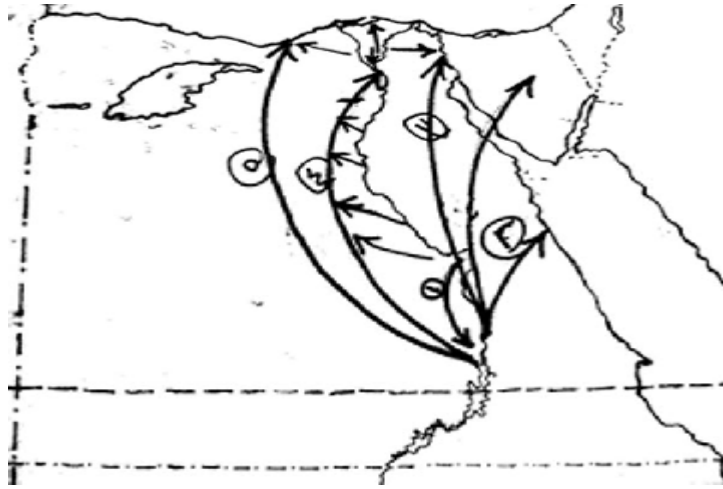
- خطورة التوسع العمرانى للقاهرة الكبرى نحو الشمال انه يتم على حساب الاراضى الزراعية الخصبة التى يصعب تعويضها

2 - تتخلص القاهرة من النفايات عن طريق القائها في الصحراء او احراقها وكلا الطريقتين سيئة لانها تضر بالبيئة ضررا بالغا وهذا الاسلوب غير متحضر لانه يلحق اضرارا على البيئة بما فيها صحة الانسان

3 - اثار الهجرة الداخلية على مدينة القاهرة :

- ارتفعت معدلات النمو السكانى بالقاهرة حتى زادت على معدلات نمو السكان في مصر كلها بسبب الهجرة الداخلية
- ارتفاع كثافة السكان في القاهرة حتى بلغت في بعض اقسامها 100.000 نسمة /كم²
- تمثل القاهرة 20% من جملة سكان مصر
- تستنزف القاهرة نسبة كبيرة من موارد البلاد في المشروعات الاستثمارية وتوفير الخدمات لسكانها
- الضغط السكانى على فرص العمل والخدمات والاسكان والتعليم والصحة والمواصلات - ظهور أحياء عشوائية

(ب) خريطة لمصر وعليها تيارات الهجرة الداخلية :



*** اهم تيارات الهجرة في الوادى * اهم تيارات الهجرة في الدلتا**

- 1- من قنا إلى اسوان
- 2- من جنوب الوادى الى البحر الاحمر وسيناء
- 3- من جنوب الوادى الى اقليم قناة السويس
- 4- من جميع محافظات الوادى الى القاهرة
- 5- من جنوب الوادى الى الاسكندرية
- 1 - من جنوب الدلتا الى القاهرة
- 2 - من شرق الدلتا الى اقليم القناة
- 3 - من غرب الدلتا الى الاسكندرية
- 4 - من جنوب الدلتا الى شمالها

نموذج امتحان الجغرافيا (المستوى الرفيع) للثانوية العامة

اولا : اجب عن الاسئلة الاتية :-

السؤال الاول :

(أ) اختر الاجابة الصحيحة مما بين الاقواس فيما يأتى :

1. مدت مصر مياهها الاقليمية الى
(3 اميال بحرية - 12 ميل بحرى - 50 ميل بحرى - 200 ميل بحرى)
2. ثانی محافظات مصر جذبا للسكان محافظة
(الاسكندرية- بور سعيد - الجيزة - الاسماعيلية)
3. من الدول التي عانت من التفرقة العنصرية
(جنوب افريقيا - البرازيل - فرنسا - اليابان)
4. تعاني مصر من حالة تصحر (شديد جدا - شديد - متوسط - بسيط)
5. يحقق مجتمع المعرفة للامم والشعوب والتقدم
(الادارة - التخطيط - الفن - الرفاهية)
6. تعاني مدن الدول النامية من فاقد ساعات العمل بسبب
(ارتفاع نسبة البطالة - قلة العمالة اللازمة - ازدحام الشوارع - ارتفاع نسبة التلوث)

(ب) ما النتائج التي ترتبت على :

1. ازدياد معدل التلوث في منطقة حلوان
2. ارتفاع سعر الارض في مدينة نيويورك
3. كثرة سحب المياه من الابار السطحية في مكسيكوسيتى
4. المعرفة المتزايدة والمتراكمة التي حققها العالم في شتى المجالات

السؤال الثانى :-

(أ) اى العبارات الاتية صحيحة وايها خطأ ، مع ذكر السبب :

1. يعد انتقال اهالى النوبة الى سهل كوم امبو هجرة اختيارية
2. من صفات الحدود الهندسية انها تتجاهل كل من الظواهر الطبيعية والبشرية
3. يوجد اكبر عدد من المدن المليونية في الوقت الحاضر في قارة اوربا
4. العولمة من منظور الدول الكبرى تعنى تشكيل المجتمعات البشرية على نمط ثقافى واحد هي الثقافة العربية
5. تنقسم مصر الى 36 محافظة اداريا
6. لا تعوق جبال الالب في اوربا الاتصال بين ايطاليا ودول وسط اوربا

(ب) ماذا يحدث اذا ؟

1. لم تتوقف تيارات الهجرة الى مدينة القاهرة
2. اتجهت مصر الى تصنيع المواد الخام
3. اتجهت تيارات الهجرة الداخلية خارج الوادى والدلتا

السؤال الثالث :

(أ) بم تفسر..... ؟

1. تعتبر الجبال اهم الظاهرات المستخدمة في تخطيط الحدود السياسية
 2. تحرك مصر نسبيا خارج اطار خط الفقر العالمى
 3. ظهور مشكلات الثقافة الوطنية في بعض دول العالم
 4. وجود هجرة عائدة من المدن الى الريف في مصر في السنوات الاخيرة
- (ب) انقل خريطة سويسرا المرفقة في كراسة الاجابة ثم وضع عليها :

1. اهم البحيرات التى تتفق معها حدودها
2. الدول المجاورة لسويسرا



السؤال الرابع : -

(أ) صحح ما فوق الخط واعد كتابة العبارات الصحيحة : -

1. يقع اكبر مجمع حضرى في العالم في دولة هولندا واصغر مجمع حضرى في العالم في دولة شيلى
2. اضخم تيار للهجرة الداخلية في مصر يتجه الى مدينة الجيزة
3. اكثر المدن الامريكية جذبا للمهاجرين من الزوج واشنطن
4. المحصول الغذائى الذى يمثل اهم الواردات المصرية الارز
5. اكثر القارات التى بها حدود فلكية وهندسية استراليا

(ب) (الانتاج قاعدة قوة الدولة وازدهارها)

في ضوء ذلك اذكر :-

1. جهود الدولة لتنمية الانتاج الزراعى والصناعى
2. جهود الدولة من اجل تنمية البحيرات الشمالية
3. جهود الدولة لمواجهة التصحر
4. ارسـم خريطة لمصر توضح أهم البحيرات المصرية الشمالية

اجابة النموذج

اجابة السؤال الاول :-

- (أ) 1 - 12 ميل بحرى 2 - الجيزة 3 - جنوب افريقيا
4 - متوسطة 5 - الرفاهية 6 - ازدحام الشوارع
- (ب) 1 - نتائج زيادة معدل التلوث في منطقة حلوان : بسبب ادخنة المصانع وغازتها السامة ادى الى :-
- اختفاء دور حى حلوان كحى سياحى واستشفاء
 - نقل مرصد حلوان الى منطقة القطامية شرق القاهرة
- 2 - ارتفاع سعر الارض في مدينة نيويورك : ادى الى تكثيف استخدام مساحة الجزر التى تتكون منها المدينة عن طريق بناء ناطحات السحاب التى ترتفع لاكثر من 60 طبقا
- 3 - كثرة سحب المياه من الابار السطحية في مكسيكوستى ادى الى حدوث تصدعات في بعض اجزاء المدينة فهبطت المباني الى اكثر من 10 امتار وتكرر حدوث الزلازل
- 4 - * محاربة الفقر والجوع والمرض من خلال الكشف عن وسائل جديدة لتنمية الغذاء واكتشاف وسائل جديدة للكشف عن اسباب الامراض وكيفية علاجها
- * الحفاظ على البيئة وذلك من خلال الكشف عن اسباب تدهورها وطرق علاجها
- * تحقيق مزيد من الازدهار الاقتصادى بالكشف عن مناطق جديدة للمواد الخام
- * تنمية القدرات الانتاجية في مجالات الصناعة والزراعة
- * تنمية القدرات الدفاعية للدولة بابتكار المزيد من المخترعات التى تحمى بها سكانها وحدودها ومواردها

اجابة السؤال الثانى :-

- (أ) 1 - العبارة خطأ ، هجرة اهالى منطقة النوبة إلى سهل كوم امبو هجرة اجبارية وليست اختيارية حيث اجبروا على ترك قراهم وأراضيهم بعد ان اغرقتها مياه بحيرة ناصر (السد)
- 2- العبارة صحيحة ، لانها خطت في بداية الامر في مناطق غير مأهولة بالسكان كالمناطق الصحراوية او اقاليم الغابات وكل هذه المناطق كانت المعلومات الجغرافية عنها غير دقيقة عند رسم الحدود السياسية وقد نشأت بعض المشاكل على طول بعض هذه الحدود ثبت فيما بعد ان لها اهمية اقتصادية عندما اكتشفت الثروات المعدنية قرب الحدود
- 3 - العبارة خطأ ، لان اكبر عدد من المدن المليونية يوجد في قارة اسيا لانها اكبر قارات العالم سكانا ، اكثر من 60% من سكان العالم وبها حوالى 81 مدينة مليونية
- 4 - العبارة خطأ ، لان العولمة التى تريد فرضها الدول الكبرى تعنى تشكيل المجتمعات البشرية على نمط ثقافة واحدة وهى الثقافة الغربية (الامريكية والاوروبية الراهنة) باعتبارها النموذج الثقافى الاقوى والاجدر باتباعه والاتصواء تحت مظلتها

5 - العبارة خطأ ، لان مصر اداريا تنقسم الى 28 محافظة طبقا لقرار الرئيس
الاخير

6 - العبارة صحيحة ، لان كثرة الممرات الجبلية والانفاق التي تخترق جبال الالب تخترقها طرق

المواصلات لتربطها بدول وسط اوربا

(ب) 1 - اذا لم تتوقف تيارات الهجرة الى مدينة القاهرة تزداد مشكلات الاسكان والضغط على المرافق
كالكهرباء والتليفونات والصرف الصحى والنقل والتعليم والصحة وتزداد العشوائيات ويزداد الزحام كما
تزداد معدلات التلوث والجريمة والبطالة

2 - اذا اتجهت مصر لتصنيع المواد الخام :

• تتضاعف أثمانها

• تزداد قدرتها التنافسية في الأسواق الخارجية

• تساهم في تشغيل قوة العمل

• يحدث تراجع نسبة البطالة

3 - اذا اتجهت تيارات الهجرة الداخلية في مصر الى خارج الوادى والدلتا لأدى ذلك الى :

• تخفيف التكدس السكانى الهائل في الوادى والدلتا

• إعادة توزيع سكان مصر على مساحتها

• استغلال مناطق في مصر كانت غير مستغلة وتنميتها اقتصاديا مما يزيد من انتاج مصر
خاصة في مجالات الزراعة والصناعة والسياحة

اجابة السؤال الثالث : -

(أ) 1 - الجبال اهم الظاهرات المستخدمة في تخطيط الحدود السياسية للاتى :-

• تقف الجبال كحواجز طبيعية عالية في طريق الغزو الخارجى

• تتميز بقلّة سكانها خاصة على قممها وسفوحها

• وعورتها تعوق الحركة على طول سفوحها وعند قممها فيصعب انشاء الطرق ومد السكك
الحديدية

2- تحرك مصر نسبيا خارج اطار خط الفقر العالمى بسبب :-

- برامج التنمية الزراعية والصناعية في الريف والحضر
- مشروعات الزراعة في سيناء وتوشكى
- مشروعات التنمية الصناعية في صعيد مصر والمدن الجديدة

3 - ظهور مشكلات الثقافة الوطنية في بعض دول العالم :

- تخلف بعض الثقافات وتباطؤ تطورها نحو العلم الحديث
- سعى بعض الثقافات الاقوى للهيمنة على الثقافات الاضعف واخضاعها لنفوذها في شتى المجالات

• الانقسامات الداخلية داخل الثقافة الوطنية

• تدخل بعض القوى من الخارج بغرض زيادة المشكلات

• خضوعها الطويل للاستعمار وتباطؤ نمو نظامها التعليمى واهدار المواهب

4 - ظهر تيار الهجرة العائدة من المدن الى الريف في مصر نتيجة لتحسن مستوى

المعيشة في الريف وتوافر الخدمات به - كذلك يفضل كبار السن العودة الى قراهم

وترك مساكنهم لابنائهم

(ب) خريطة سويسرا :



اجابة السؤال الرابع :

(أ) 1 - اليابان - الهند 2 - القاهرة 3 - نيويورك 4 - القمح 5 - افريقيا

(ب) (1) - جهود الدولة لتنمية الانتاج الزراعى والصناعى :-

في المجال الزراعى :-

- التوسع الرأسى عن طريق البرامج الزراعية الناجحة التى تزيد من انتاجية الارض في مجال السرى والصرف والتسميد والتخزين ومقاومة الافات
- التوسع الافقى عن طريق زيادة المساحة الزراعية باستصلاح الصحراء

جهود الدولة لتنمية الانتاج الصناعى :-

- مسح الاراضى المصرية جيولوجيا
- التنقيب عن المعادن المختزنة في الصخور
- تنمية الانتاج الحالى من البترول والغاز الطبيعى والفسفات
- التوسع في الصناعات المتقدمة المتصلة بالالكترونيات

(2) جهود الدولة لتنمية البحيرات الشمالية :

- تعميم الصرف المغطى وتحويل المصارف المكشوفة الى البحر بدلا من البحيرات
- الاهتمام بتطهير البواغيز لزيادة كمية المياه التى تدخل البحيرات للحفاظ على ثروتها السمكية
- منع تجفيف أطراف البحيرات وكذلك منع الصيد الجائر
- الاهتمام بتطوير الصناعات السمكية القائمة

(3) جهود مصر لمكافحة التصحر :

- وضع قوانين تمنع البناء بمواد الطمي والطين وتمنع تجريف التربة وتبوير الحقول
- وضع برامج لمواجهة التملح وإصلاح نظام الصرف في شمال الدلتا
- تنفيذ برامج مقاومة زحف الرمال بغرس السياجات الخضراء على اطراف الوادى والدلتا

(4) خريطة لمصر

عليها اهم البحيرات:

